

Witajcie Tygryski

1. Na początek proszę o przeczytanie dzieciom wiersza.

„Wielkanocny stół” E. Skarżyńska

Nasz stół wielkanocny
haftowany w kwiaty.
W borówkowej zieleni
listeczków skrzydlatych
lukrowana baba
rozpycha się na nim,
a przy babie -
mazurek w owoce przybrany.

Palmy pachną jak łąka
w samym środku lata.
Siada mama przy stole,
A przy mamie tata.
I my.

Wiosna na nas
zza firanek zerca,
a pstrokate pisanki
chcą tańczyć oberka.

Wpuśćmy wiosnę,
Niech słońcem
zabłyśnie nad stołem
w wielkanocne świętowanie
jak wiosna wesole!

2. Narysuj ilustrację do wiersza. Wytnij podane wyrazy i umieść je na swojej ilustracji we właściwych miejscach .

STÓŁ	BABA	MAZUREK
PALMA	PISANKA	

3. "Liczymy pisanki"- zabawa matematyczna z wykorzystaniem sylwety kosza, pisanek , cyfr i znaków matematycznych podczas której dzieci wykonują obliczenia na konkretach. Wytnij koszyczek,pisanki i cyfry i licz z rodzicami.

Najpierw ułóż pisanki jedna obok drugiej i policz je, ułóż pod nimi cyfry od 1-9

a) Kasia włożyła do koszyka 3 pisanki, Tola 4 . Ile jest pisanek w koszyku?


b)W koszyku było 8 pisanek , brat Wojtka potłukł 3. Ile pisanek zostało?

c) Maja do koszyka włożyła 5 pisanek , Tata włożył 2 i mama też 2. Ile maja teraz jaj?



EASTER EGGS — COLLECTION —







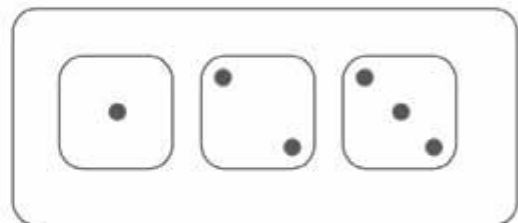
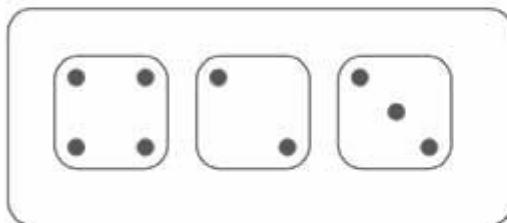


designed by  freepik

4. Ozdób pisanke flamastrami i plasteliną.






5. Wykonaj matematyczne karty pracy.

Pokoloruj kostkę, na której jest najwięcej oczek na kolor **czzerwony**,
a kostkę, na której jest najmniej oczek na kolor **zielony**


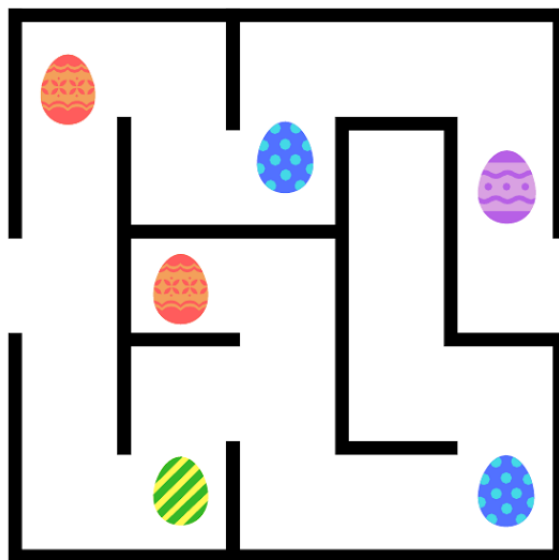


Policz ile każdy zajączek pomalował na święta pisanek.





Znajdź drogę przez labirynt.
Narysuj w koszyku, tyle pisanek, ile zebrałeś po drodze.



MLECZNA WIELKANOCNA KARTA PRACY

Rozwiąż równanie.

$$\text{blue striped egg} = 1 \quad \text{green striped egg} = 2 \quad \text{orange wavy egg} = 3 \quad \text{purple wavy egg} = 4$$

$$\text{green striped egg} + \text{purple wavy egg} =$$

$$\text{green striped egg} + \text{green striped egg} + \text{blue striped egg} =$$

$$\text{purple wavy egg} + \text{green striped egg} + \text{orange wavy egg} + \text{blue striped egg} =$$

$$\text{purple wavy egg} + \text{purple wavy egg} + \text{blue striped egg} =$$

$$\text{purple wavy egg} + \text{green striped egg} + \text{orange wavy egg} + \text{blue striped egg} =$$



Policz ile jajek znajduje się w koszyku i narysuj w polach odpowiednią ilość kropek.



